



Progressive Education Network
Paper Math Class K.G, First Term Exam 2022

O.M															
Q.No	1	2	3	4	5	6	7	8	9	10	11	12		Total Marks: 50	

Name of Student: _____

Name of Teacher: _____






School: _____

Date: _____

Time Allowed: 1:15 Hour







Q1. Trace and write the numbers. (10)

نقاط ملائیں اور اعداد لکھیں۔

	1	1	
	2	2	
	3	3	
	4	4	
	5	5	






Q2. Encircle the triangular objects. (6)

مثلث اشیاء کے گرد دائرہ لگائیں۔




Q3. Count and match with correct numbers. (10)

گنتیں اور اعداد کے ساتھ ملائیں۔

8.	
9.	
1.	
10.	
7.	

Q4. Colour the pictures that are showing how can we be kind to others. (4)

ان تصاویر میں رنگ بھریں جو ظاہر کر رہی ہیں کہ ہم دوسروں کے ساتھ کیسے مہربان ہو سکتے ہیں؟

Q 5: Encircle the objects that are empty.

(4)

ان اشیاء کے گرد دائرہ لگائیں جو خالی ہیں۔



Oral Exam

Q6. Ask students to tell the names of four heavy things.

(4)

Q7. Ask students to count backward from 10-01

(10)

Q8. Ask students how many wheels a car has?

(2)